

## 28. DRŽAVNO NATJECANJE IZ GEOGRAFIJE 2021. GODINE

### 4. RAZRED

Većina zadataka rješava se pomoću grafičkih priloga. Pozorno promotri priloge prije rješavanja tih zadataka. U svakom zadatku jedan je odgovor točan. Na listu za odgovore zaokruži slovo točnog odgovora.

1. U kojoj se od navedenih županija nalazi sporno područje sa susjednom državom koje je najbliže početnom meridijanu?



Izvor: Gall, H. Kralj, P. Slunjski, R. (2014.): Geografija 4, udžbenik geografije u četvrtom razredu gimnazije, Školska knjiga, Zagreb.

- a) u Dubrovačko-neretvanskoj županiji
- b) u Karlovačkoj županiji**
- c) u Međimurskoj županiji
- d) u Vukovarsko-srijemskoj županiji
- e) u Zagrebačkoj županiji

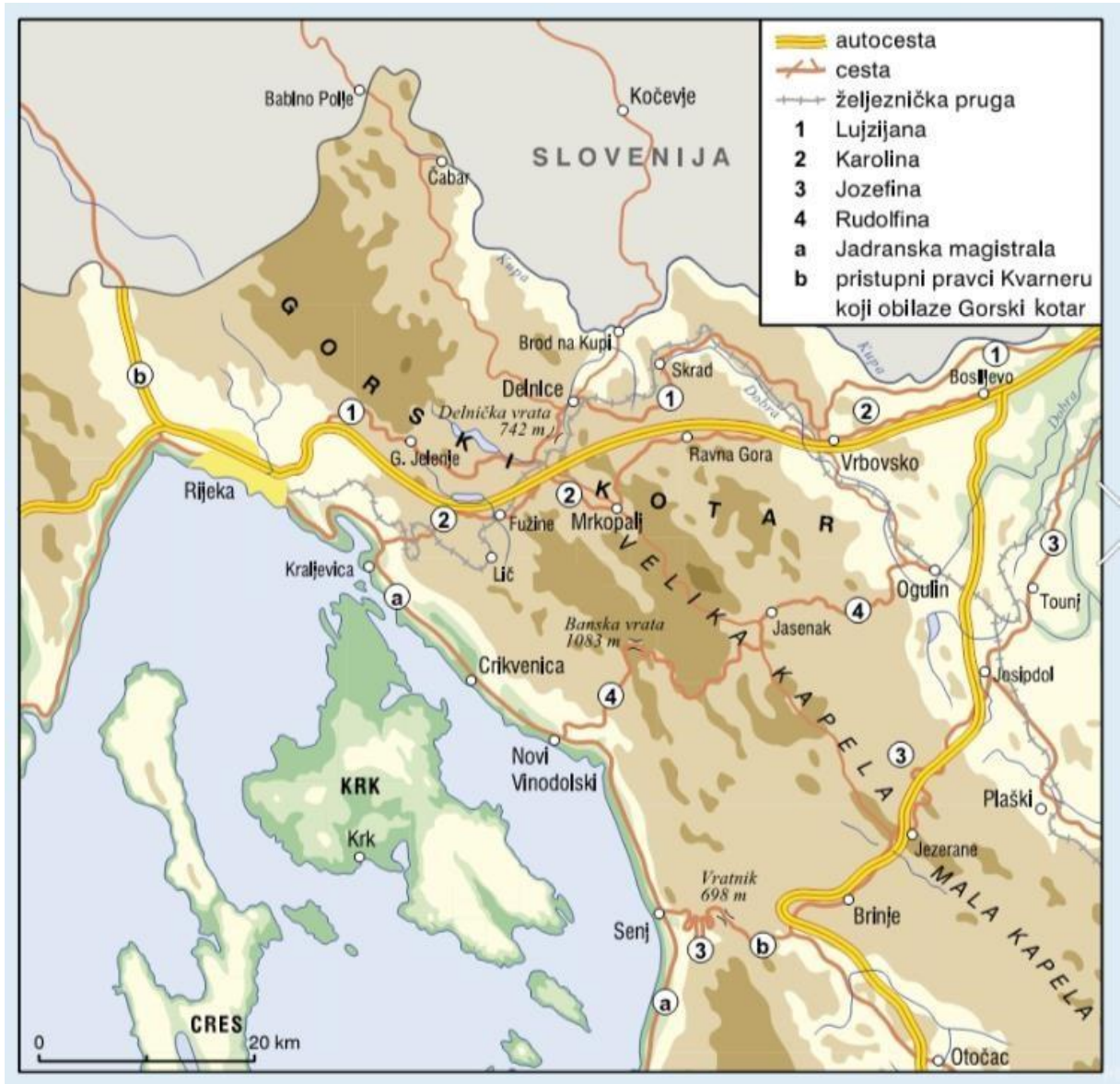
2. Koje se od navedenih naselja nalazi na trasi autoceste koja je imala najveći značaj do devedesetih godina 20. stoljeća?



Izvor: poslovniforum.hr

- a) Đakovo
- b) Ivanić Grad**
- c) Novi Marof
- d) Otočac
- e) Zabok

3. Koje se od navedenih naselja nalazilo na trasi prve makadamske ceste u podunavsko-sjevernojadranskom kombiniranom prometnom sistemu?



Izvor: app.wizer.me

- a) Delnice
- b) Gornje Jelenje
- c) Skrad
- d) Vrbovsko
- e) Vukova Gorica



4. Kojim je brojem označen prometni pravac na čijoj trasi nije izgrađena autocesta?



Izvor: Feletar, D., Vuk, R. (2014): Geografija 4, udžbenik iz geografije za četvrti razred gimnazije, Meridijani, Zagreb.

- a) 1
- b) 3
- c) 4
- d) 5
- e) 7

5. Koji se od navedenih hrvatskih gradova nije nalazio u sastavu Nezavisne Države Hrvatske?



Izvor: proleksis.lzmk.hr

- a) Koprivnica
- b) Ludbreg
- c) Pitomača
- d) Prelog
- e) Virovitica

6. Koje je ime rimske provincije u kojoj se u 4. stoljeću nalazio grad Enona?

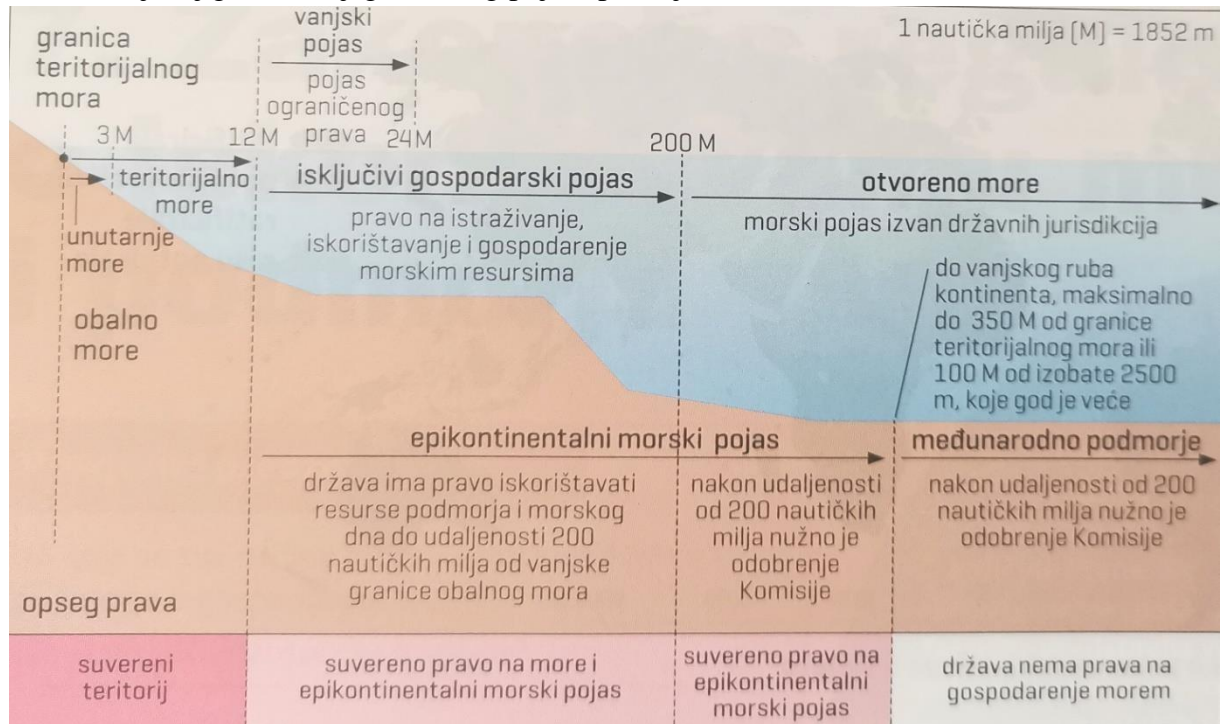


Izvor: Feletar, D., Vuk, R. (2014): Geografija 4, udžbenik iz geografije za četvrti razred gimnazije, Meridijani, Zagreb.

- a) Dalmatia
- b) Liburnia**
- c) Pannonia Savia
- d) Pannonia Secunda
- e) Valeria



7. Na vanjskoj granici kojeg morskog pojasa prestaje hrvatski suverenitet?



Izvor: Novaković, T., Jurgec, M., Jelenski, D., Pešorda S., Vuk, R. (2020): Zemlja na dlanu Geografija 3, udžbenički komplet za geografiju u trećem razredu gimnazije, Meridijani, Zagreb.

- a) epikontinentalnog morskog pojasa
- b) isključivog gospodarskog pojasa
- c) međunarodnog podmorja
- d) teritorijalnog mora**
- e) unutarnjeg mora

8. Koji je naziv oblika fluvijalnog reljefa označenog crvenom linijom na priloženoj karti?

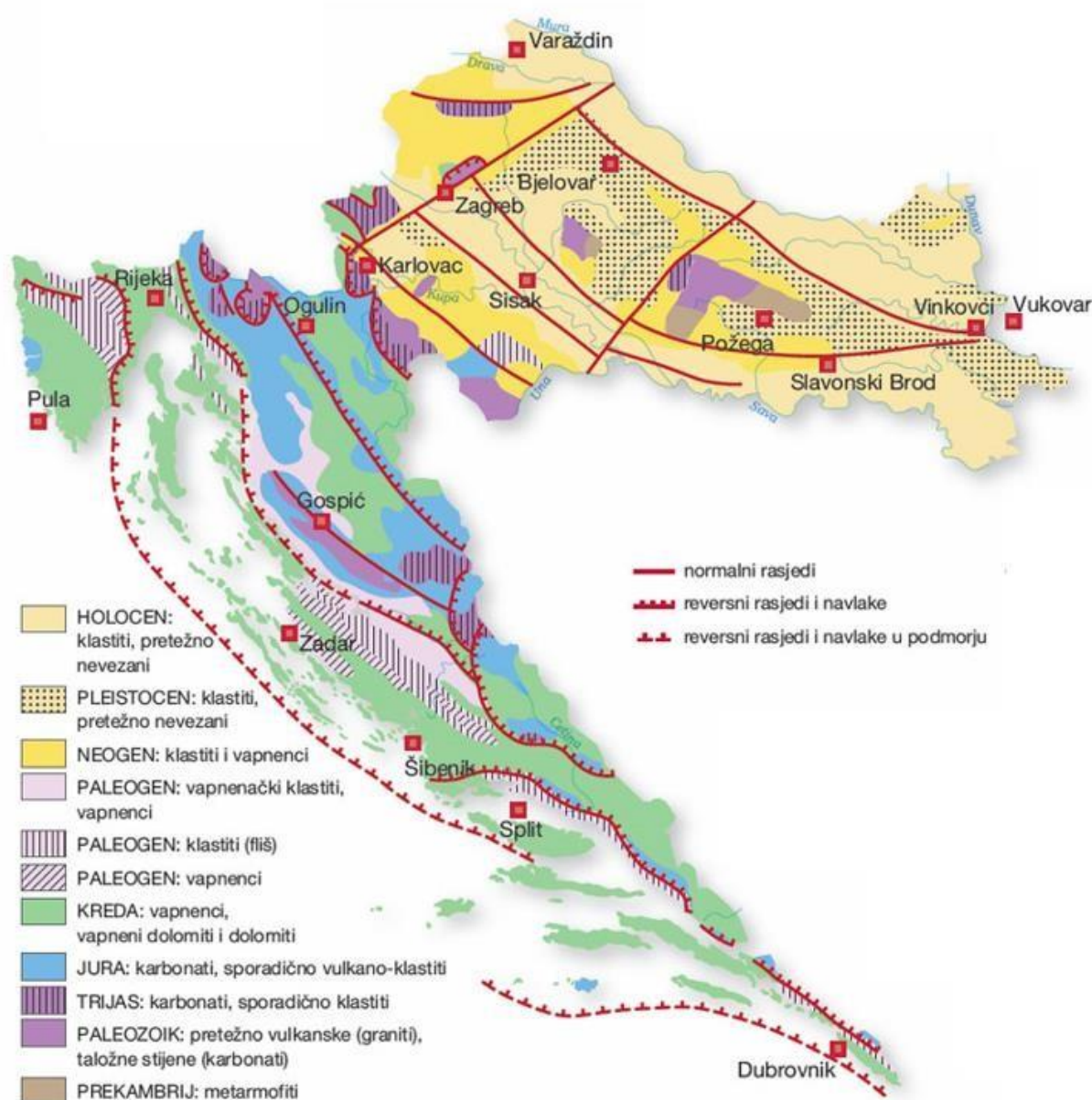


Izvor: maps.google.com

- a) meandar
- b) mrtvica
- c) ostatak stare terase
- d) riječni otok**
- e) rit



SLJEDEĆA TRI ZADATKA RIJEŠI POMOĆU PRILOŽENE GEOGRAFSKE KARTE.



Izvor: Feletar, D., Vuk, R. (2014): Geografija 4, udžbenik iz geografije za četvrti razred gimnazije, Meridijani, Zagreb.

9. Koje se od navedenih naselja najvećim dijelom nalazi na najstarijoj podlozi stijena na priloženoj geološkoj karti?
- Cavtat
  - Imotski
  - Rovinj**
  - Umag
  - Vela Luka

10. Koje stijene prevladavaju u panonsko-peripanonskom prostoru?

- a) biogene sedimentne stijene
- b) kemogene sedimentne stijene
- c) mehaničke sedimentne stijene
- d) metamorfne stijene
- e) magmatske stijene

11. Koje se od navedenih naselja nalazi na otoku s naslagama fliša?

- a) Kampo
- b) Lumbarda
- c) Milna
- d) Poveljana
- e) Pučišća

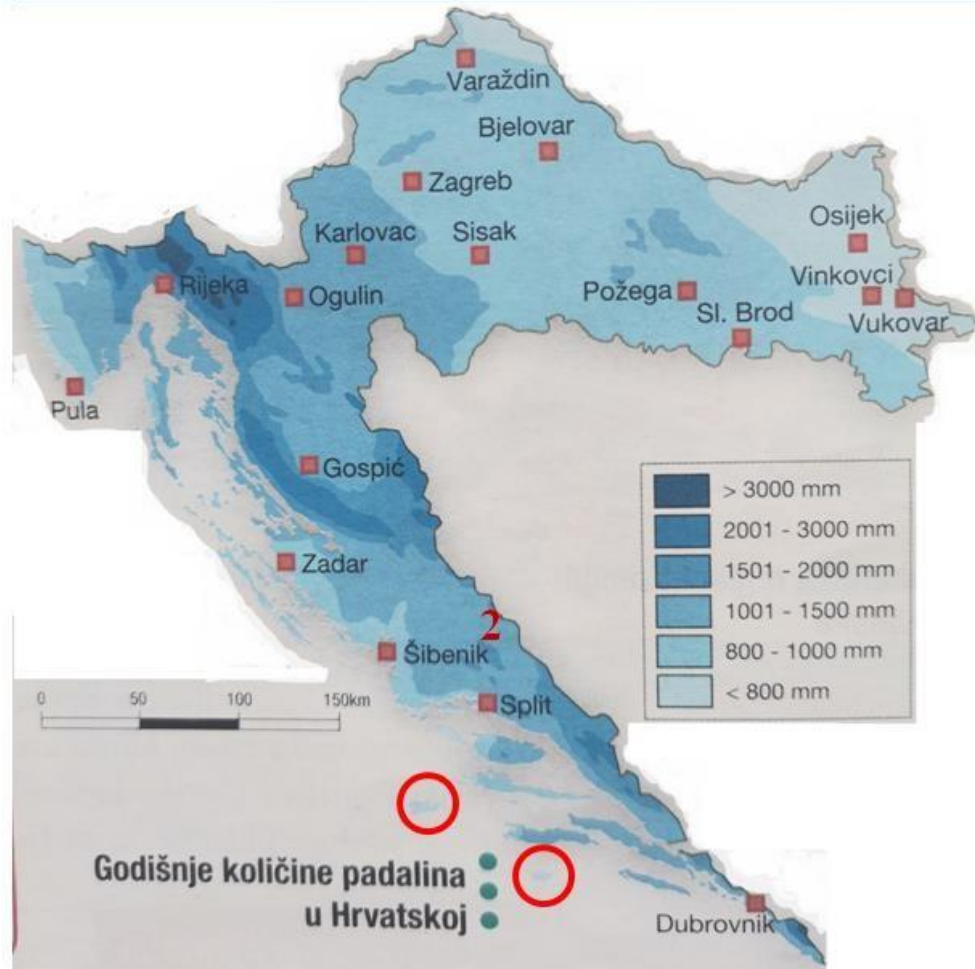
12. Koje je obilježje reljefnog oblika u kojemu je nastalo Prološko blato?



Izvor: mapio.net.hr

- a) najbrojniji oblik krškog reljefa
- b) najniži dio riječne doline
- c) najveće količine obradivih površina
- d) udolina u flišu
- e) zaravan oblikovana u pleistocenu

13. Zašto područja zaokružena na karti primaju manje padalina od područja označenog brojem 2 na karti?

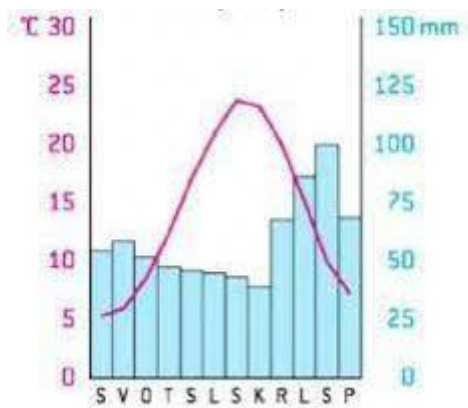


Izvor: Feletar, D., Vuk, R. (2014): Geografija 4, udžbenik iz geografije za četvrti razred gimnazije, Meridijani, Zagreb.

- a) zbog geografskog položaja
- b) zbog insolacije
- c) zbog maritimnosti
- d) zbog nadmorske visine
- e) zbog stalnih polja tlaka zraka



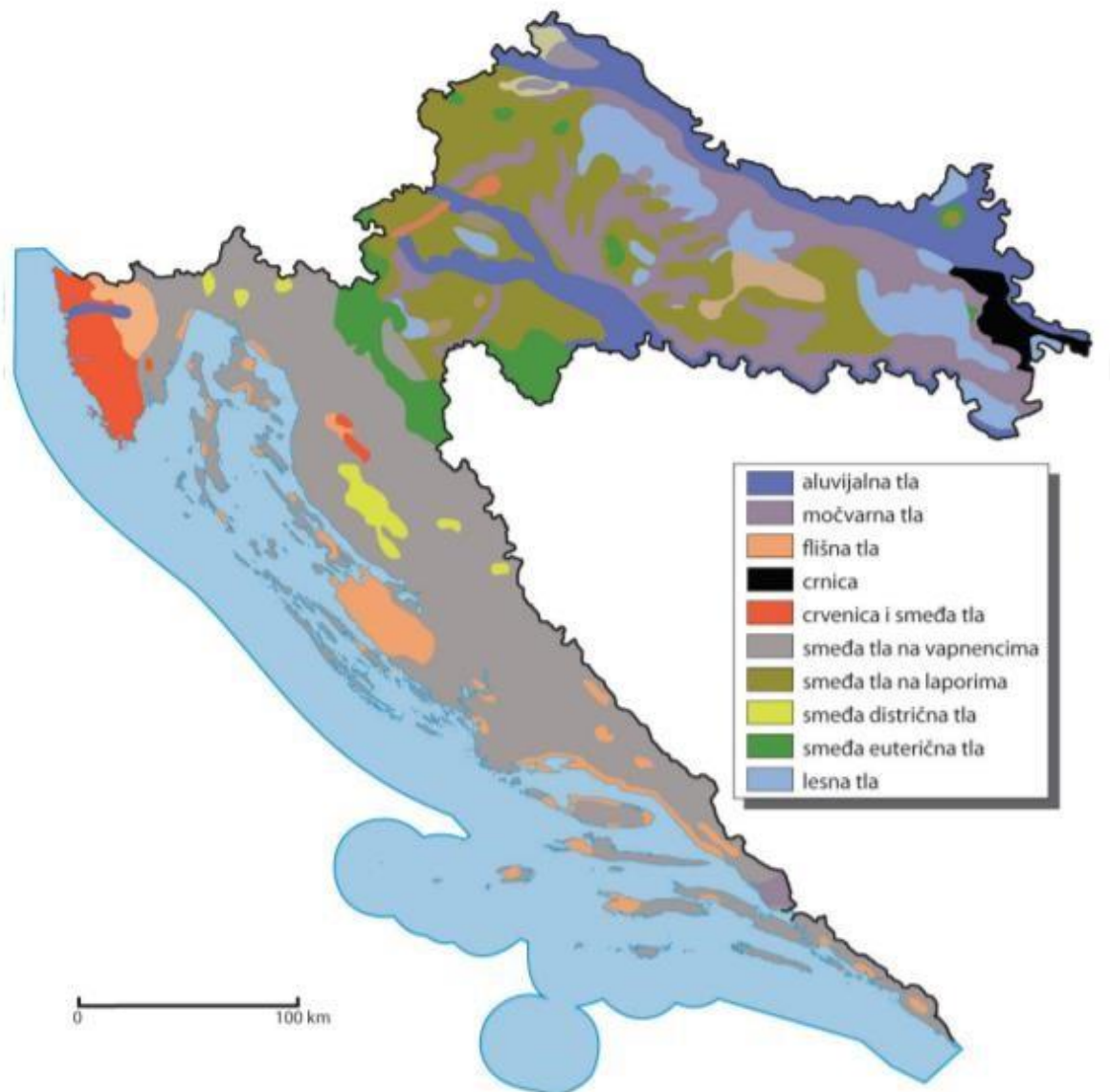
14. Koje obilježje razlikuje tip klime prikazan na priloženom klimatskom dijagramu od navedenih obilježja tipova klime?



Izvor: srednja-skola.github.io

- a) ljeta s manje padalina od Csa
- b) ljeta s više padalina od Df
- c) ljetne temperature niže Cfb
- d) zimske temperature više od Csa
- e) zimske temperature više od Cfb

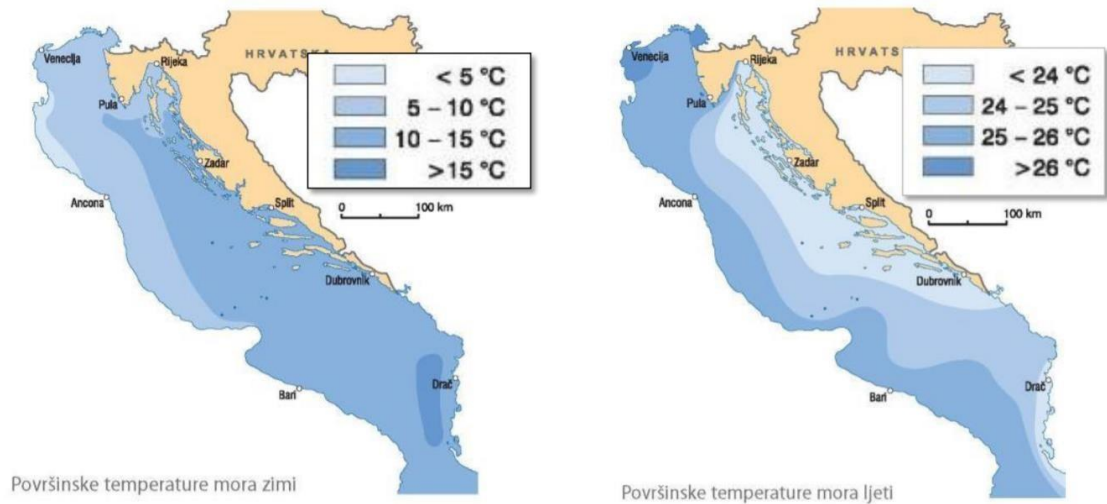
15. U kojem je od navedenih područja najzastupljenije močvarno glejno tlo prikazano na karti?



Izvor: hr.izzi.digital

- a) u dolini Česme
- b) u dolini Drave
- c) u dolini Kupe
- d) u dolini Odre
- e) u dolini Vuke

16. Koja tvrdnja odgovara stanju prikazanom na tematskoj karti?



Izvor: Gall, H. Kralj, P. Slunjski, R. (2014.): Geografija 4, udžbenik geografije u četvrtom razredu gimnazije, Školska knjiga, Zagreb.

- a) Albanska obala ima veću temperaturnu amplitudu površinske temperature mora tijekom jedne godine od slovenskog primorja.
- b) Dotjecanje vode s kopna i vrulje imaju utjecaj na zimske površinske temperature mora na hrvatskoj obali Jadranskog mora.
- c) Ljetna površinska temperatura mora oko svih pučinskih otoka je 24 – 25 °C.
- d) Najniže površinske temperature mora zimi su u hrvatskom unutarnjem moru.
- e) Zapadna obala Istre ima manju temperaturnu amplitudu površinskih voda tijekom jedne godine od obale dalmatinskih otoka.



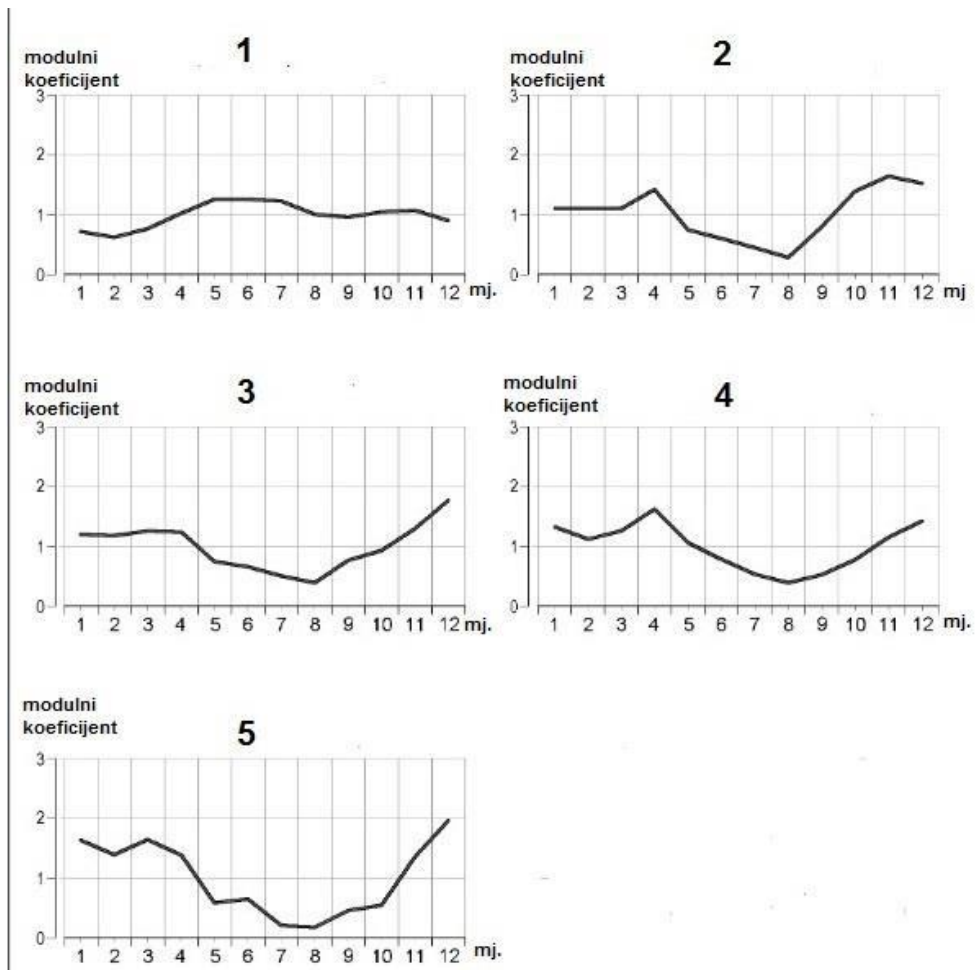
17. Što je od navedenog današnje obilježje slijeva kojemu pripada rijeka Vučica za razliku od slijeva kojemu pripada rijeka Mirna?



Izvor: srednja-skola.github.io

- a) bujičasti tokovi
- b) **uglavnom nepropusna podloga**
- c) kanjoni
- d) podzemni tokovi
- e) velik hidroenergetski potencijal

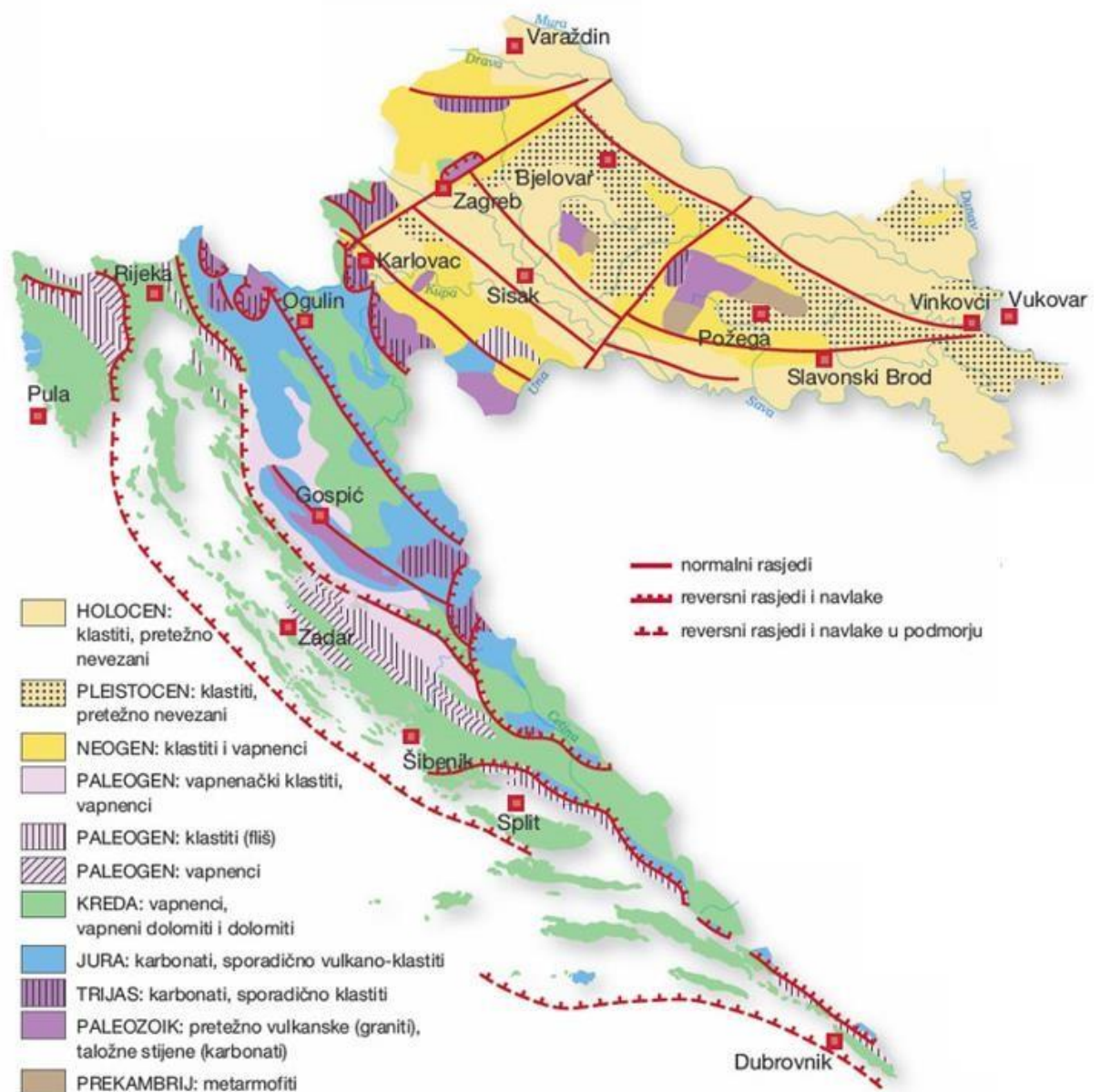
18. Kojim je brojem označen hidrogram koji prikazuje alpski snježno-kišni režim?



Izvor: Čanjevaca, I. (2013): Tipologija protočnih režima u Hrvatskoj, Hrvatski geografski glasnik 75/1, 23-42.

- a) brojem 1
- b) brojem 2
- c) brojem 3
- d) brojem 4
- e) brojem 5

19. Na području kojih naslaga je izgrađen najveći broj vodocrpilišta u Hrvatskoj?



Izvor: Feletar, D., Vuk, R. (2014): Geografija 4, udžbenik iz geografije za četvrti razred gimnazije, Meridijani, Zagreb.

- a) na naslagama fliša
- b) na naslagama lesa
- c) na naslagama metamorforita
- d) na naslagama šljunka**
- e) na naslagama vapnenca



20. Koji se ribnjak nalazi u sastavu značajnog krajobraza Jelas polje?



Izvor: Natura-slavonica.hr

- a) Grudnjak
- b) Jasinje**
- c) Končanica
- d) Slobošćina
- e) Šućurica

SLJEDEĆA TRI ZADATKA RIJEŠI POMOĆU PRILOŽENE GEOGRAFSKE KARTE.



21. Na kojem od navedenih otočnih područja **nije** proglašeno zaštićeno područje nacionalni park ni park prirode?

- a) na Brijunima
- b) na Dugom otoku
- c) na Korčuli
- d) na Lastovskom otočju
- e) na Mljetu

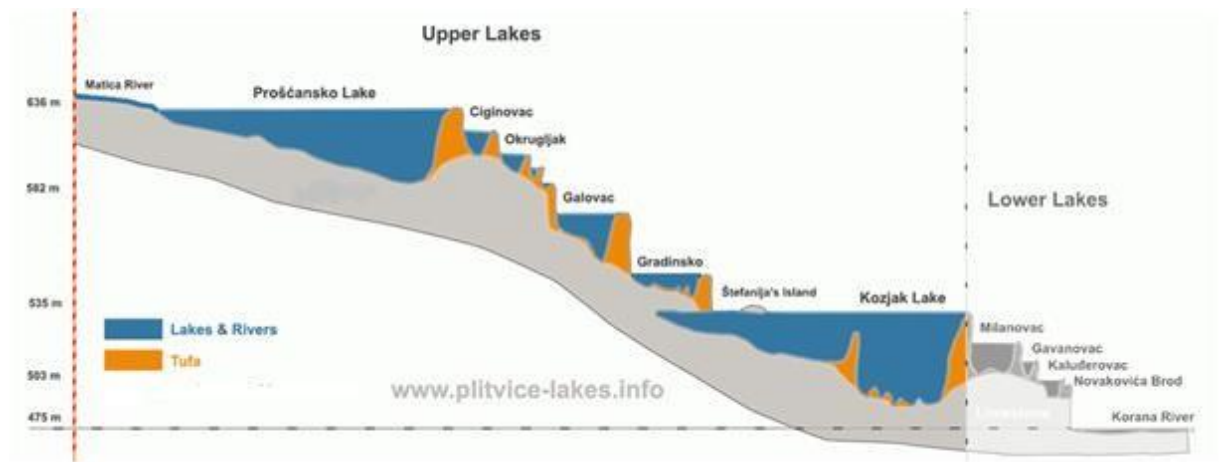
22. Na kojoj se od navedenih planina nalazi lokalitet najstrože kategorije zaštite prirode?

- a) na Biokovu
- b) na Dinari
- c) na Maloj Kapeli
- d) na Učki
- e) na Velebitu

23. Koje je obilježje najistočnijeg lokaliteta druge i treće kategorije zaštite prirode u Hrvatskoj?

- a) najmlađi nacionalni park
- b) najmlađi park prirode
- c) najmlađi regionalni park
- d) najstariji park prirode
- e) površinom najveći park prirode

24. Koji je naziv najzastupljenije stijene na kojoj su nastala Gornja jezera u NP Plitvička jezera?



Izvor: Plitvice-Lakes.info

- a) dolomit
- b) granit
- c) lapor
- d) pješčenjak
- e) vapnenac



25. Koje je ime parka prirode u kojemu se nalazi kanjon Vela Draga prikazan na fotografiji?



Izvor: Wikipedia.hr

- a) Dinara
- b) Papuk
- c) Učka
- d) Velebit
- e) Žumberak – Samoborsko gorje

26. Koliko je iznosila prosječna godišnja stopa promjene broja stanovnika od 1857. godine do godine popisa stanovništva pred Prvi svjetski rat?

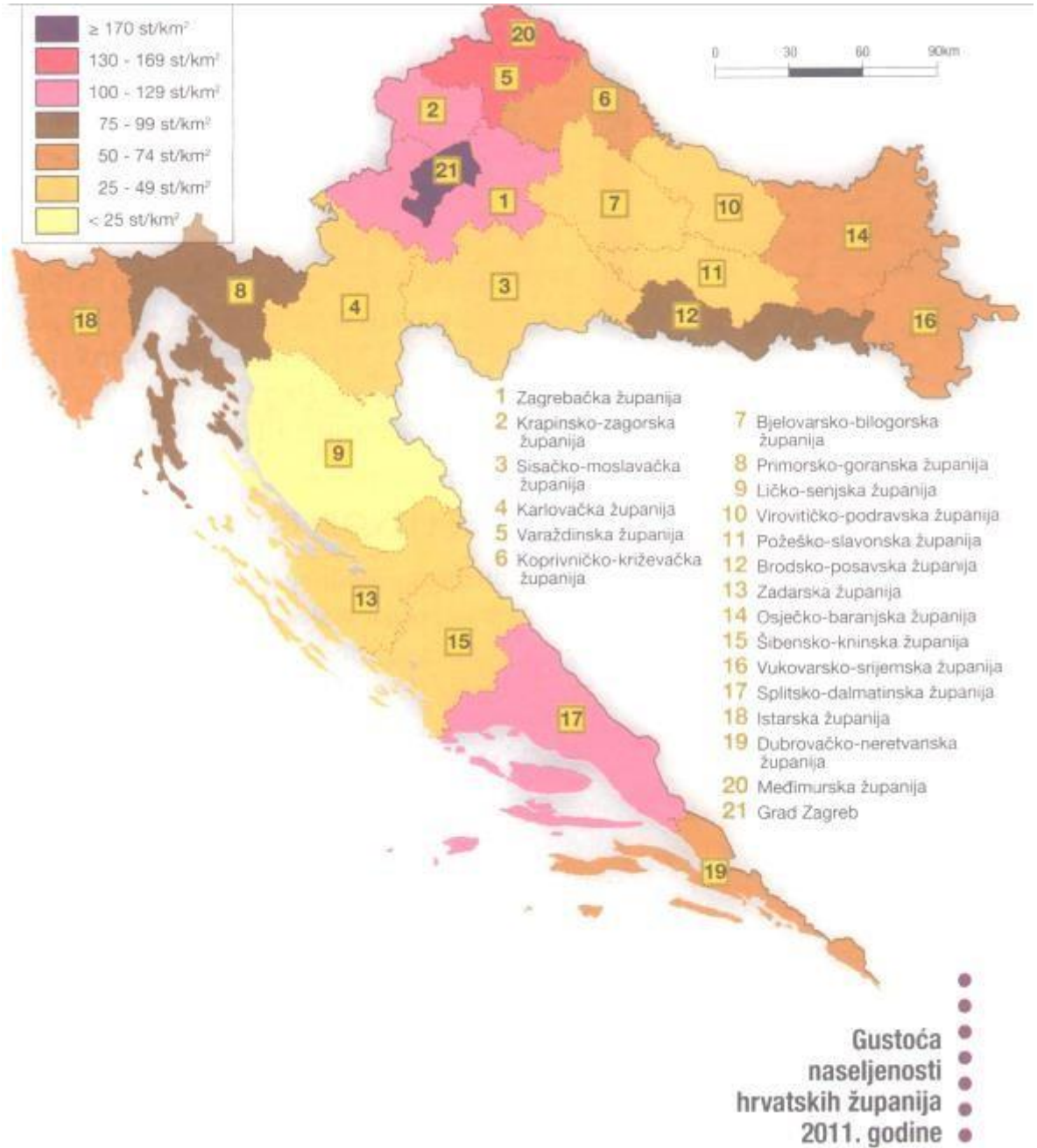
**Kretanje broja stanovnika Hrvatske od 1857. do 2011. godine**

God.	Broj stanovnika	Indeks 1857. = 100	Stan./km <sup>2</sup>
1857.	2 181 499	100,0	38,5
1869.	2 398 292	109,9	42,4
1880.	2 506 228	114,9	44,3
1890.	2 854 558	130,9	50,4
1900.	3 161 456	144,9	55,9
1910.	3 460 584	158,6	61,1
1921.	3 443 375	157,8	60,8
1931.	3 785 455	173,5	66,9
1948.	3 779 858	173,2	66,8
1953.	3 936 022	180,4	69,5
1961.	4 159 696	190,7	73,5
1971.	4 426 221	203,9	78,2
1981.	4 601 469	210,8	81,3
1991.	4 784 265	219,3	84,5
2001.	4 437 460	203,4	78,4
2011.	4 284 889	196,4	75,7

(Statistički ljetopis 2012., DZS; Popis stanovništva 2011.)

- a) -7,2 ‰
- b) -3,5 ‰
- c) 2,4 ‰
- d) 4,2 ‰
- e) 8,5 ‰

27. U koju kategoriju gustoće naseljenosti pripada županija s najvećim brojem naselja?

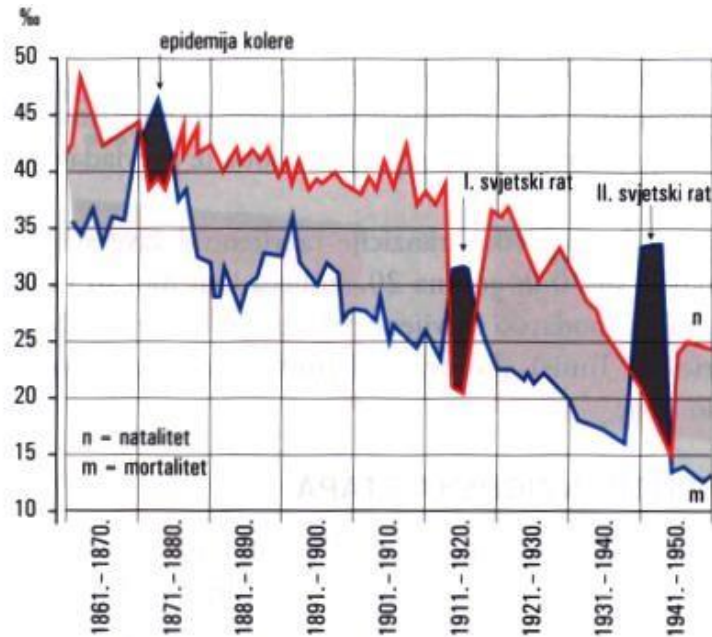


Izvor: Feletar, D., Vuk, R. (2014): Geografija 4, udžbenik iz geografije za četvrti razred gimnazije, Meridijani, Zagreb.

- a) 25 – 49 stan./km<sup>2</sup>
- b) 50 – 74 stan./km<sup>2</sup>
- c) 75 – 99 stan./km<sup>2</sup>
- d) 100 – 129 stan./km<sup>2</sup>
- e) 130 – 169 stan./km<sup>2</sup>



28. U kojem razdoblju dolazi do najintenzivnije depopulacije u Hrvatskoj?



**Prirodno kretanje stanovništva Hrvatske od 1861. do 1950. godine**

Izvor: Dalić, A., Nebeski Hostić, S., Vuk, R. (2020): Zemlja na dlanu Geografija 2, udžbenički komplet za geografiju u drugom razredu gimnazije, Meridijani, Zagreb.

**Kretanje broja stanovnika Hrvatske od 1857. do 2011. godine**

God.	Broj stanovnika	Indeks 1857. = 100	Stan./km <sup>2</sup>
1857.	2 181 499	100,0	38,5
1869.	2 398 292	109,9	42,4
1880.	2 506 228	114,9	44,3
1890.	2 854 558	130,9	50,4
1900.	3 161 456	144,9	55,9
1910.	3 460 584	158,6	61,1
1921.	3 443 375	157,8	60,8
1931.	3 785 455	173,5	66,9
1948.	3 779 858	173,2	66,8
1953.	3 936 022	180,4	69,5
1961.	4 159 696	190,7	73,5
1971.	4 426 221	203,9	78,2
1981.	4 601 469	210,8	81,3
1991.	4 784 265	219,3	84,5
2001.	4 437 460	203,4	78,4
2011.	4 284 889	196,4	75,7

(Statistički ljetopis 2012., DZS; Popis stanovništva 2011.)





- a) 1861. – 1870. godine
- b) 1871. – 1880. godine
- c) 1911. – 1920. godine
- d) 1931. – 1940. godine
- e) 1941. – 1950. godine

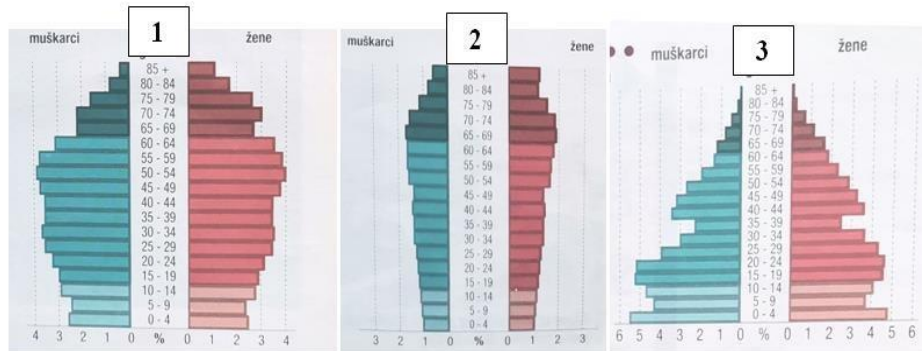
29. Koja je posljednja godina u kojoj je Hrvatska ostvarila jednostavnu reprodukciju stanovništva?

Godina	TFR
1953.	2,65
1961.	2,15
1971.	1,96
1981.	1,92
1991.	1,63
2001.	1,37
2011.	1,41

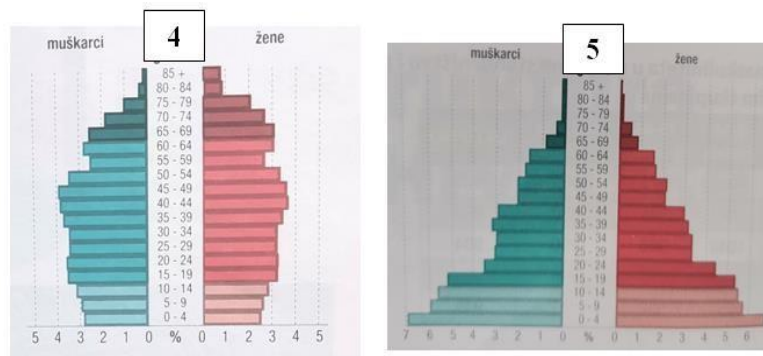
Izvor: Feletar, D., Vuk, R. (2014): Geografija 4, udžbenik iz geografije za četvrti razred gimnazije, Meridijani, Zagreb.

- a) 1953. godina
- b) 1961. godina
- c) 1971. godina
- d) 1981. godina
- e) 1991. godina

30. Kojim je brojem označen dijagram dobno-spolne strukture stanovništva Hrvatske za 1953. godinu?



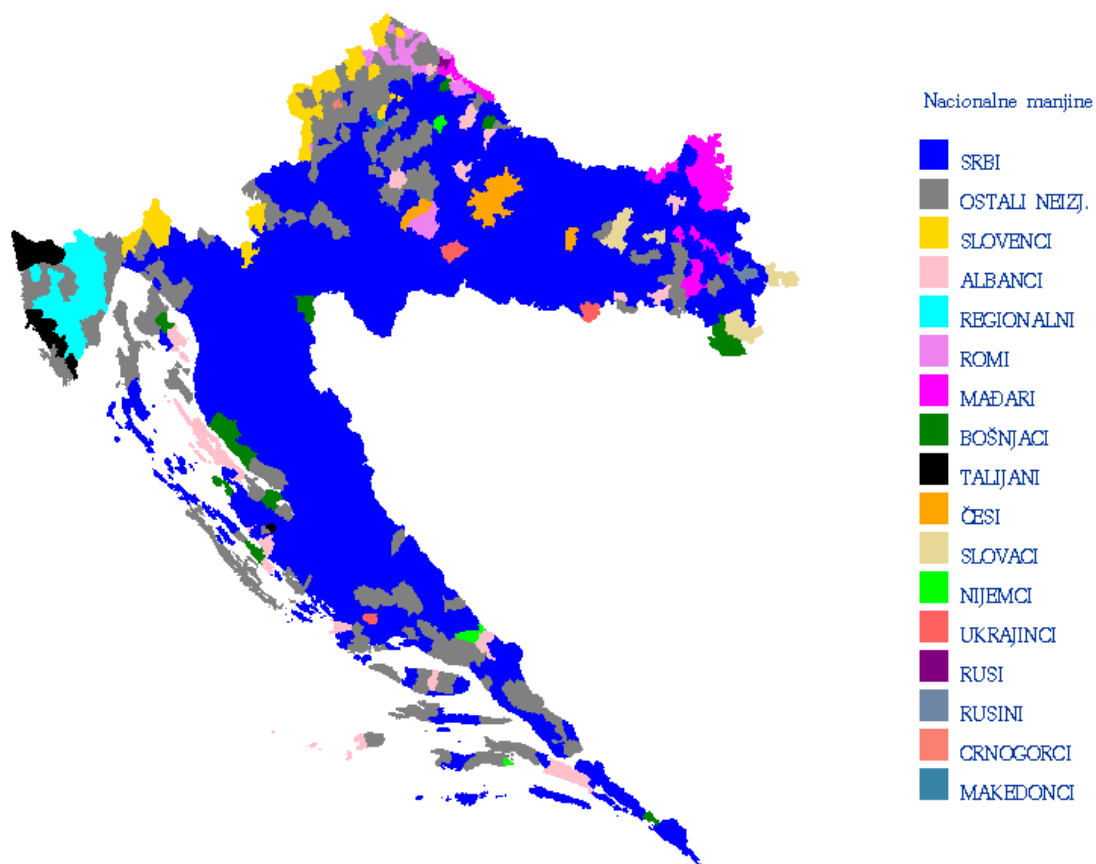
1



Izvor: Feletar, D., Vuk, R. (2014): Geografija 4, udžbenik iz geografije za četvrti razred gimnazije, Meridijani, Zagreb.

- a) broj 1
- b) broj 2
- c) broj 3**
- d) broj 4
- e) broj 5

31. U kojoj je od navedenih županija zastupljen najveći udio češke nacionalne manjine?



Izvor: SAS Output/dzs.hr

- a) u Bjelovarsko-bilogorskoj županiji
- b) u Krapinsko-zagorskoj županiji
- c) u Međimurskoj županiji
- d) u Požeško-slavonskoj županiji
- e) u Virovitičko-podravskoj županiji



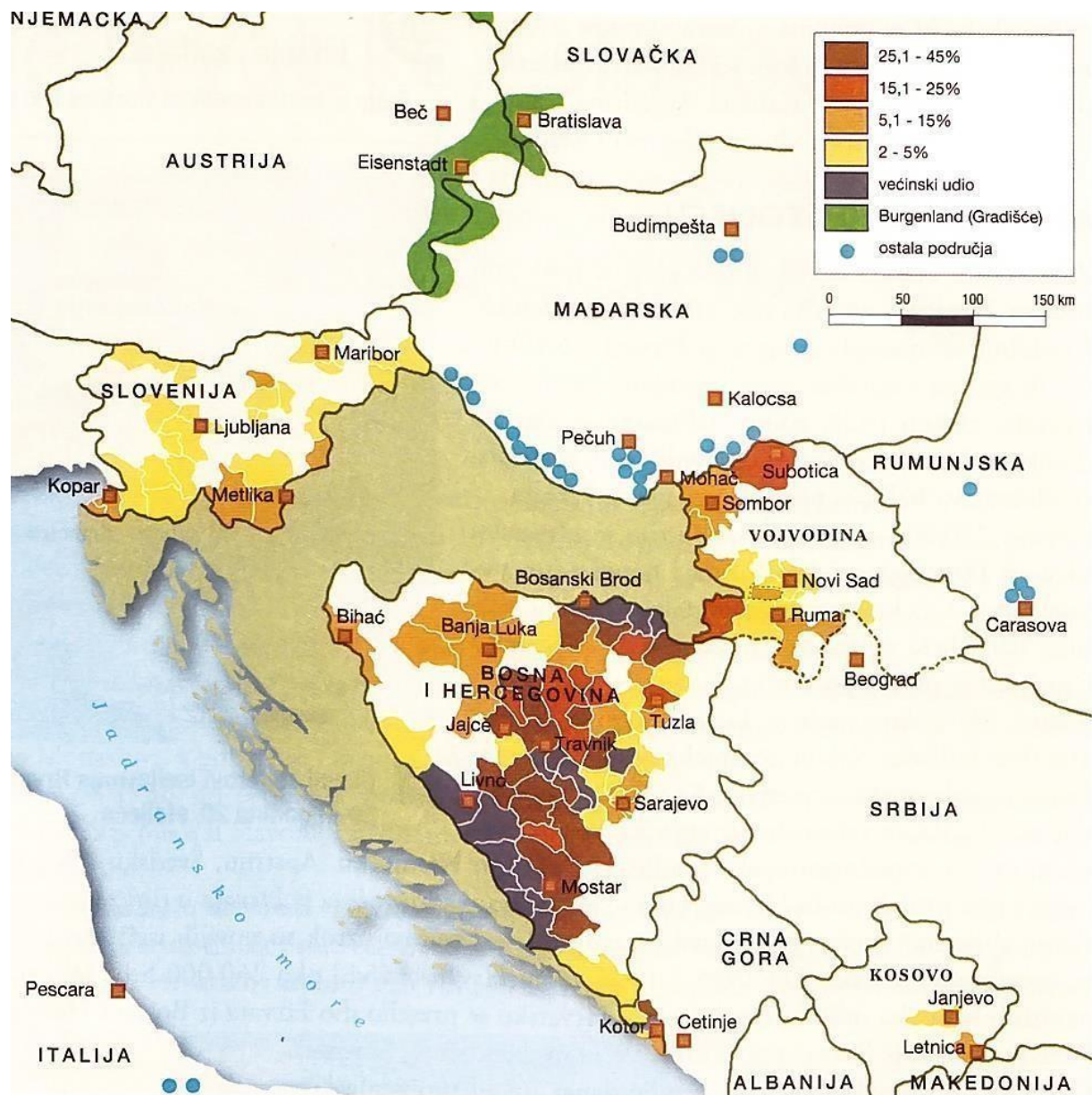
32. Koja tvrdnja odgovara stanju na grafičkom prikazu?



Izvor: Čokonaj, E., Feletar, D. (2014): Geografija 2, udžbenik iz geografije za drugi razred strukovnih škola, Meridijani, Zagreb.

- a) Udio stanovništva u primarnom sektoru od 1991. do 2012. godine smanjen je za više postotnih bodova nego udio zaposlenih u sekundarnom sektoru u istom razdoblju.
- b) Povećanje udjela stanovništva zaposlenog u tercijarnom sektoru od 1961. do 1991. godine veće je od povećanja udjela zaposlenog stanovništva u sekundarnom sektoru u istom razdoblju.
- c) Promjena udjela zaposlenih u sekundarnom sektoru od 1961. do 1991. godine jednaka je promjeni zaposlenih u sekundarnom sektoru od 1991. do 2012. godine.
- d) Tercijarizacija je intenzivnija u razdoblju od 1991. do 2012. godine nego u razdoblju od 1961. do 1991. godine.**
- e) Udio stanovništva zaposlenog izvan primarnog sektora 1961. godine manji je od udjela stanovništva zaposlenog u tercijarnom sektoru 1991. godine

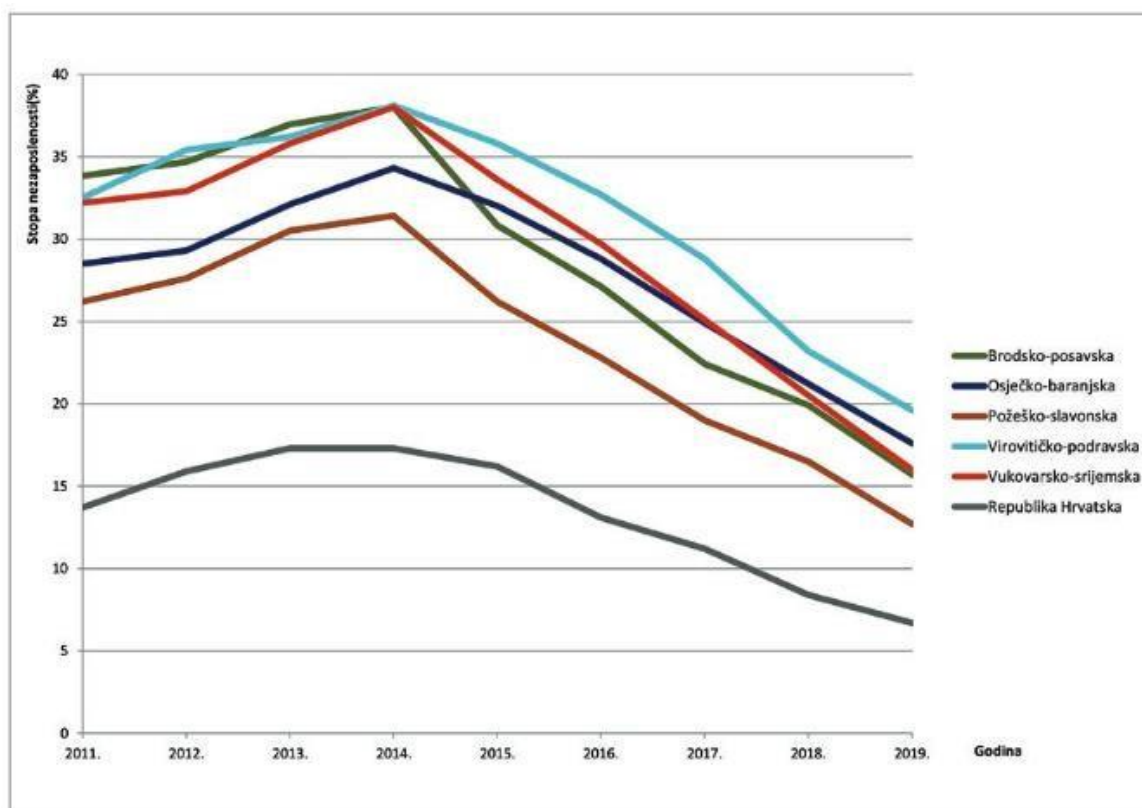
33. Koje se od navedenih naselja s hrvatskim stanovništvom nalazi u mađarskom dijelu Gradišća?



Izvor: Feletar, D., Vuk, R. (2014): Geografija 4, udžbenik iz geografije za četvrti razred gimnazije, Meridijani, Zagreb.

- a) Segedin
- b) Siget
- c) Siófok
- d) Sopron
- e) Szekszárd

34. Koja tvrdnja odgovara grafičkim prilogima?



Kretanje stope nezaposlenosti po županijama Istočne Hrvatske 2011.-2019.  
Izvor: Digitalna komora, HGK Zagreb.

Tab. 3. Mehaničko kretanje po županijama Istočne Hrvatske u razdoblju 2011.-2019.

Županija	Ukupno doseljeni	Doseljeni iz drugih županija	%	Doseljeni iz inozemstva	%	Ukupno odseljeni	Iseljeni u druge županije	%	Iseljeni u inozemstvo	%
Brodsko-posavska	9 481	5 611	59,2	3 870	40,8	26 287	12 577	47,8	13 710	52,2
Osječko-baranjska	16 600	11 305	68,1	5 295	31,9	39 042	17 553	45,0	21 489	55,0
Požeško-slavonska	5 131	3 752	73,1	1 379	26,9	14 529	6 793	46,8	7 736	53,2
Virovitičko-podravska	4 780	3 642	76,2	1 138	23,8	13 075	6 809	52,1	6 266	47,9
Vukovarsko-srijemska	11 075	6 440	58,1	4 635	41,9	34 497	15 281	44,3	19 216	55,7
Ukupno	47 067	30 750	65,3	16 317	34,7	127 430	59 013	46,3	68 417	53,7

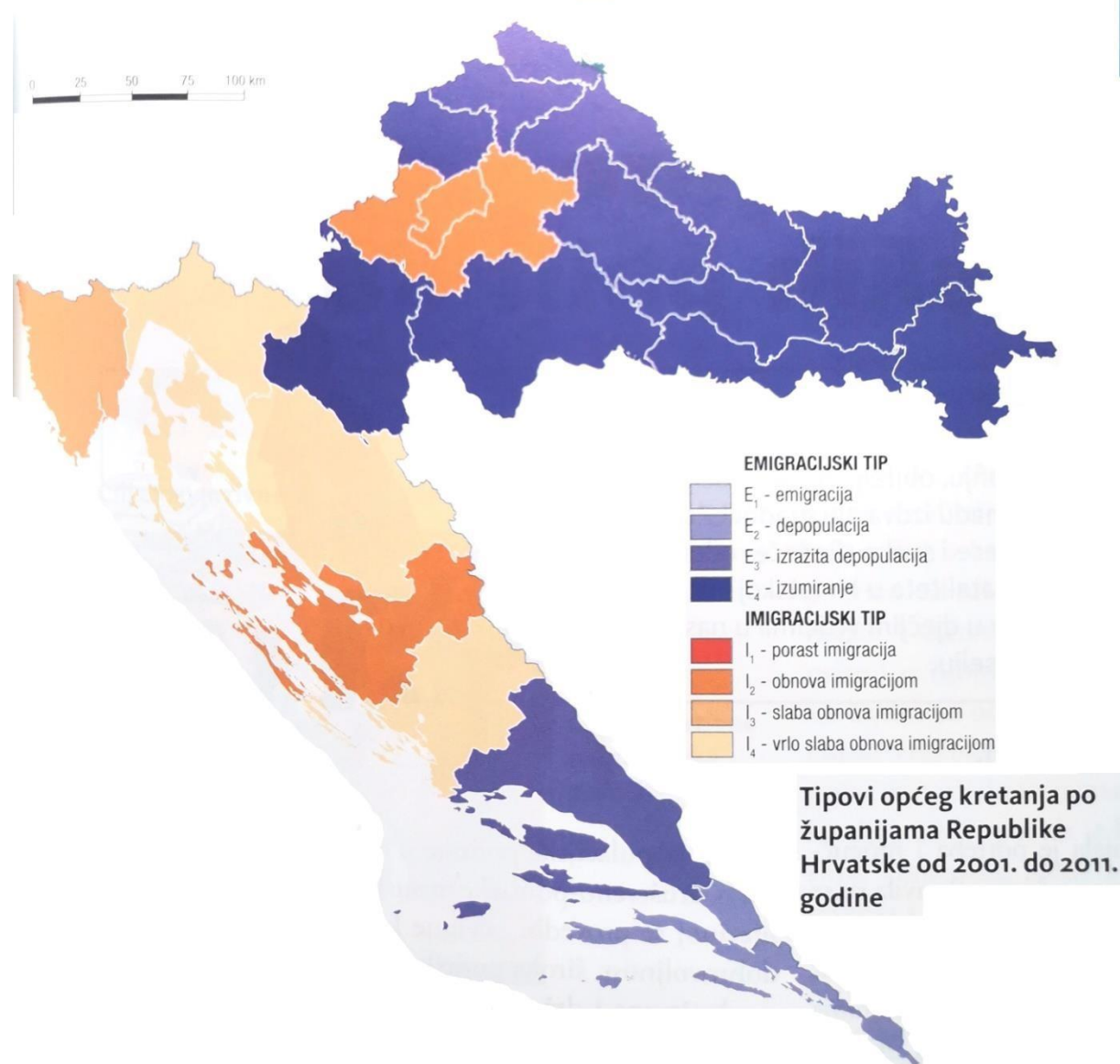
Izvor: Doseljeno i odseljeno stanovništvo - pregled po županijama, DZS.

- U svim godinama promatranog razdoblja županije Istočne Hrvatske bilježe veću stopu zaposlenosti od državnog prosjeka.
- Stopa nezaposlenosti se smanjuje od 2014. do 2015. godine zbog selektivne migracije radne snage u inozemstvo.
- Sve županije Istočne Hrvatske bilježe intenzivniju vanjsku od unutarnje migracije.

- d) Županija u kojoj je makroregionalni centar ima najnižu stopu nezaposlenosti 2019. godine.
- e) Županije Istočne Hrvatske bilježe napredak jer je u svima došlo do smanjenja stope nezaposlenosti u razdoblju od 2011. do 2019. godine.



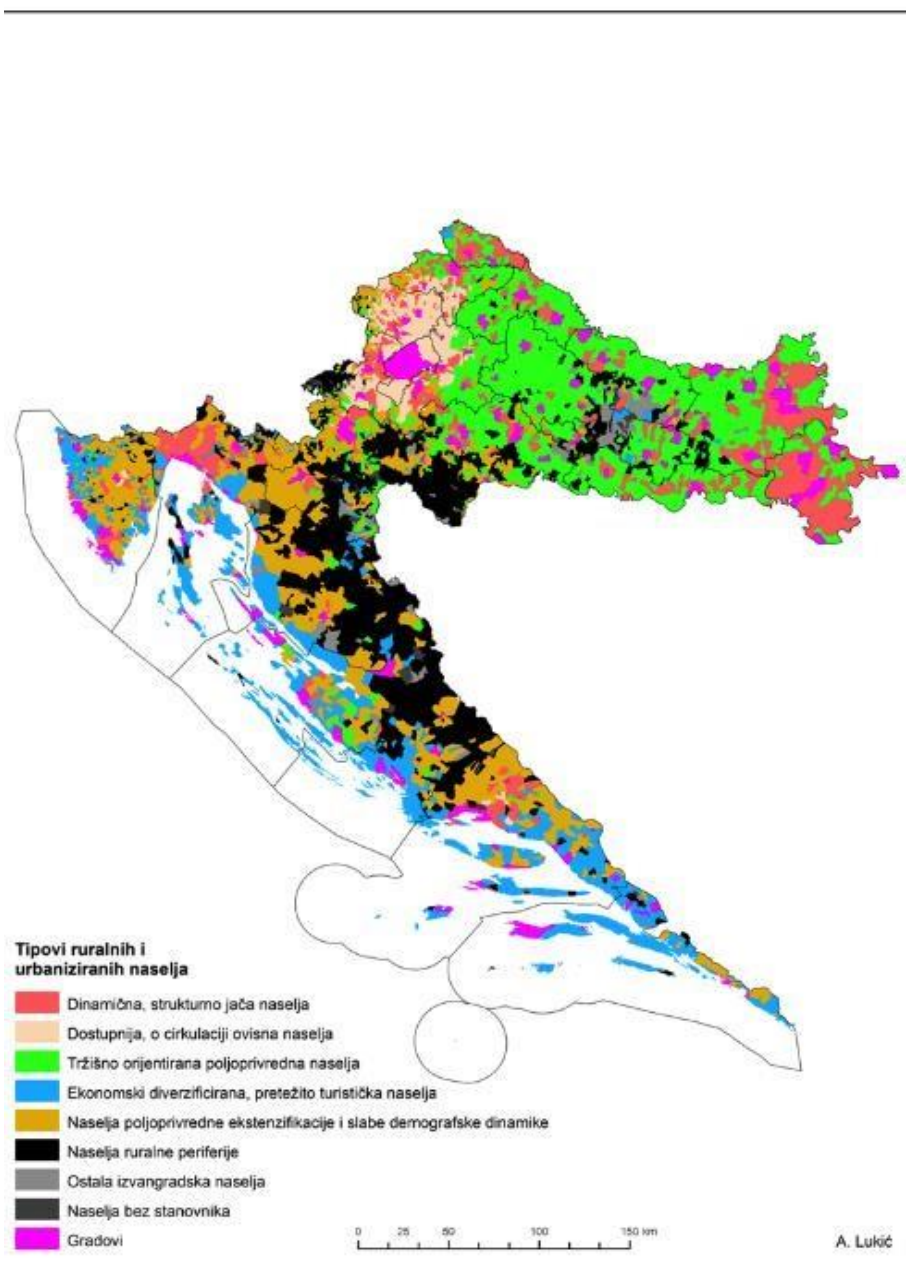
35. Koja tvrdnja odgovara stanju na priloženoj geografskoj karti?



Izvor: Dalić, A., Nebeski Hostić, S., Vuk, R. (2020): Zemlja na dlanu Geografija 2, udžbenički komplet za geografiju u drugom razredu gimnazije, Meridijani, Zagreb.

- a) Grad Zagreb prirodnim kretanjem ostvaruje porast broja stanovnika.
- b) Istarska županija ima manje negativno prirodno kretanje od Zadarske županije.
- c) Ličko-senjska županija bilježi manji pad broja stanovnika od Karlovačke županije.**
- d) Migracijski saldo je manji u Šibensko-kninskoj županiji nego u Zagrebačkoj županiji.
- e) Sisačko-moslavačka županija bilježi manje negativan migracijski saldo od prirodnog pada.

36. Koje je obilježje prostorno najraširenijeg tipa ruralnih područja Hrvatske na priloženoj karti?



Izvor: Lukić, A. (2012): Mozaik izvan grada, Tipologija ruralnih i urbaniziranih naselja Hrvatske, Meridijani, Samobor

- a) dio gravitacijske zone većih središta, komercijalno usmjerena poljoprivredna gospodarstva
- b) marginalizacija i slaba demografska koncentracija
- c) slaba demografska dinamika i ruralna ekstenzifikacija
- d) tercijarizacija i litoralizacija, poljoprivreda kao dopunsko zanimanje
- e) tržišno usmjerena poljoprivredna proizvodnja organizirana na velikim parcelama

37. Koji je od navedenih gradova u antici bio smješten na limesu?



Izvor: <https://arhitekturahrvatske.wordpress.com/antika/>

- a) Jader
- b) Mursa
- c) Pharos
- d) Salona
- e) Siscia

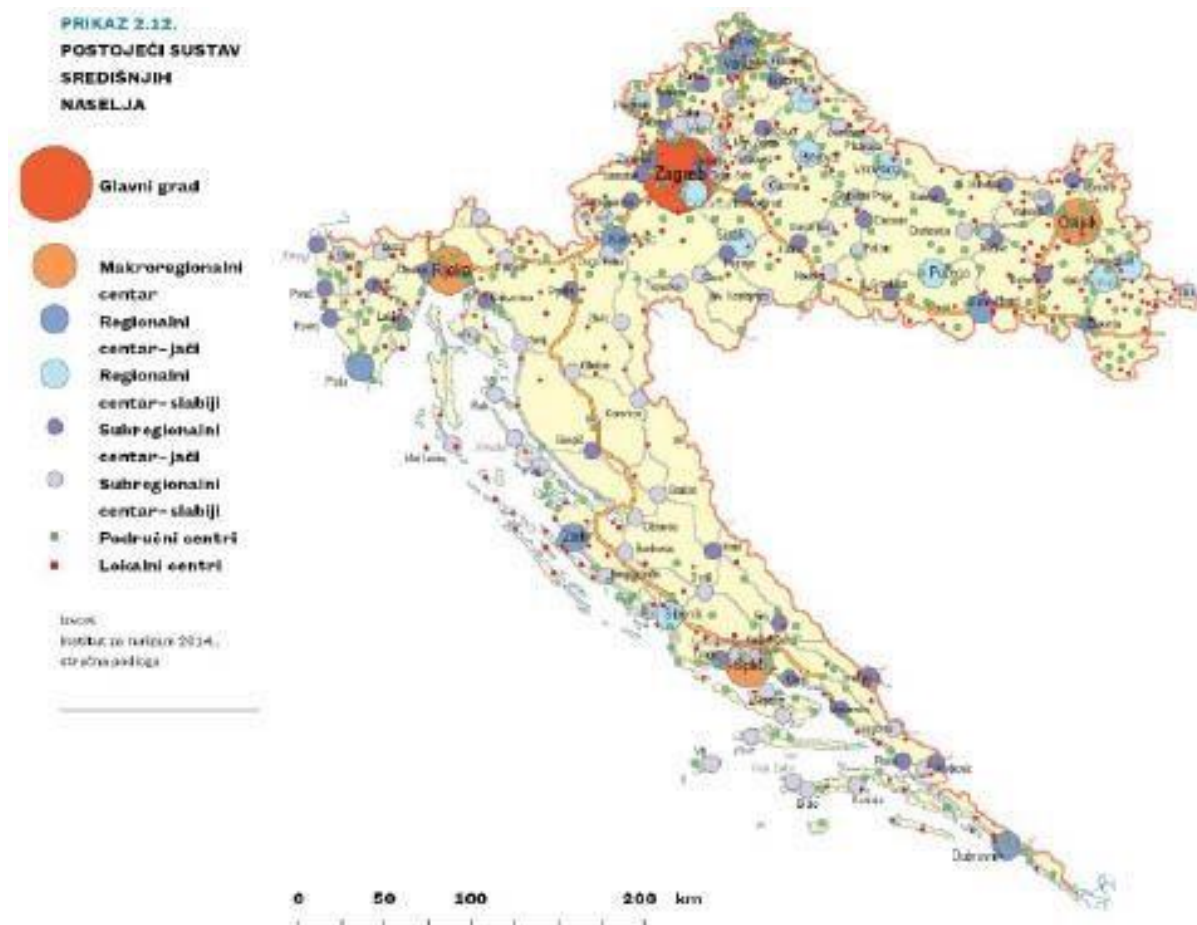
38. Koji se kulturno-genetski tip grada prepoznaje na grafičkom prikazu stare gradske jezgre Poreča?



- a) prapovijesni grad  
b) antički grad  
c) srednjovjekovni grad  
d) renesansni grad  
e) barokni grad



SLJEDEĆA DVA ZADATKA RIJEŠI POMOĆU PRILOŽENE GEOGRAFSKE KARTE.



Izvor: Feletar, D., Vuk, R. (2014): Geografija 4, udžbenik iz geografije za četvrti razred gimnazije, Meridijani, Zagreb.

39. Koju od navedenih funkcija u nodalno-funkcionalnoj hijerarhiji ima Šibenik, ali ne i Drniš?

- a) dom zdravlja
- b) klinički bolnički centar
- c) opću bolnicu
- d) sveučilište
- e) vrhovni sud

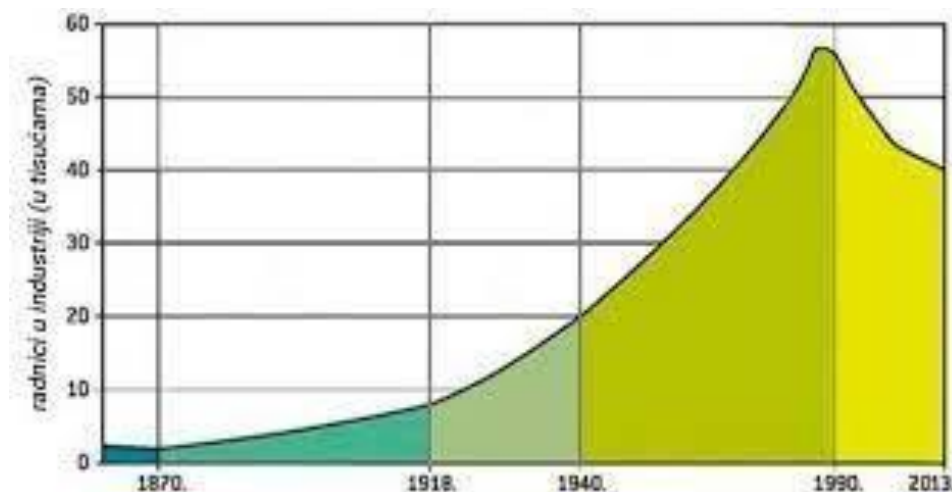
40. Koje subregionalno središte splitske regije ima najveći broj stanovnika 2011. godine?

- a) Imotski
- b) Omiš
- c) Sinj
- d) Solin
- e) Trogir

41. Koje je ime najvećeg otočnog naselja po broju stanovnika 2011. godine?

- a) Cres
- b) Hvar
- c) Krk
- d) Mali Lošinj
- e) Supetar

SLJEDEĆA DVA ZADATKA RIJEŠI POMOĆU GRAFIČKOG PRILOGA.



Izvor: Feletar, D.,

Vuk, R. (2014): Geografija 4, udžbenik iz geografije za četvrti razred gimnazije, Meridijani, Zagreb.

42. U kojem od navedenih razdoblja dolazi do prenamjerenosti orijentacije na sekundarni sektor u gospodarstvu Hrvatske?

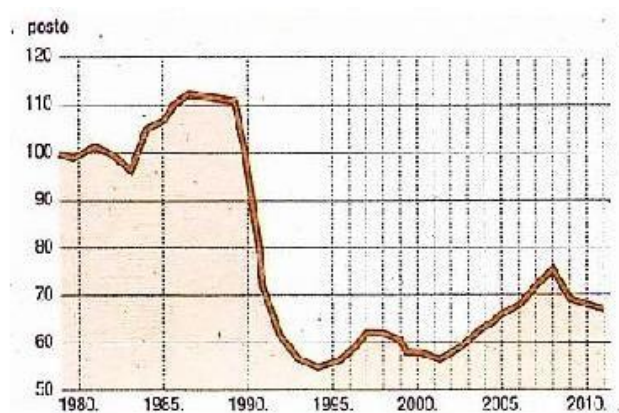
- a) do 1870. godine
- b) od 1870. do 1918. godine
- c) od 1918. do 1940. godine
- d) od 1940. do 1990. godine
- e) nakon 1990. godine

43. Koja su obilježja gospodarskog razdoblja u kojemu se razvija rudarstvo uz prve industrijske pogone?

- a) autarkična poljoprivreda, cehovi, mala kupovna moć stanovništva
- b) nekontrolirana urbanizacija, deagrarizacija, nagla industrijalizacija
- c) niska produktivnost, otvaranje tržišta neracionalno zapošljavanje.
- d) polarizacija hrvatskih regija, uspostava „žitne magistrale“
- e) politička podređenost, slaba akumulacija kapitala, česte promjene granica



44. Koji od navedenih procesa **nije** obilježje razdoblja razvoja hrvatskog gospodarstva u kojemu dolazi do najvećeg pada obujma industrijske proizvodnje?

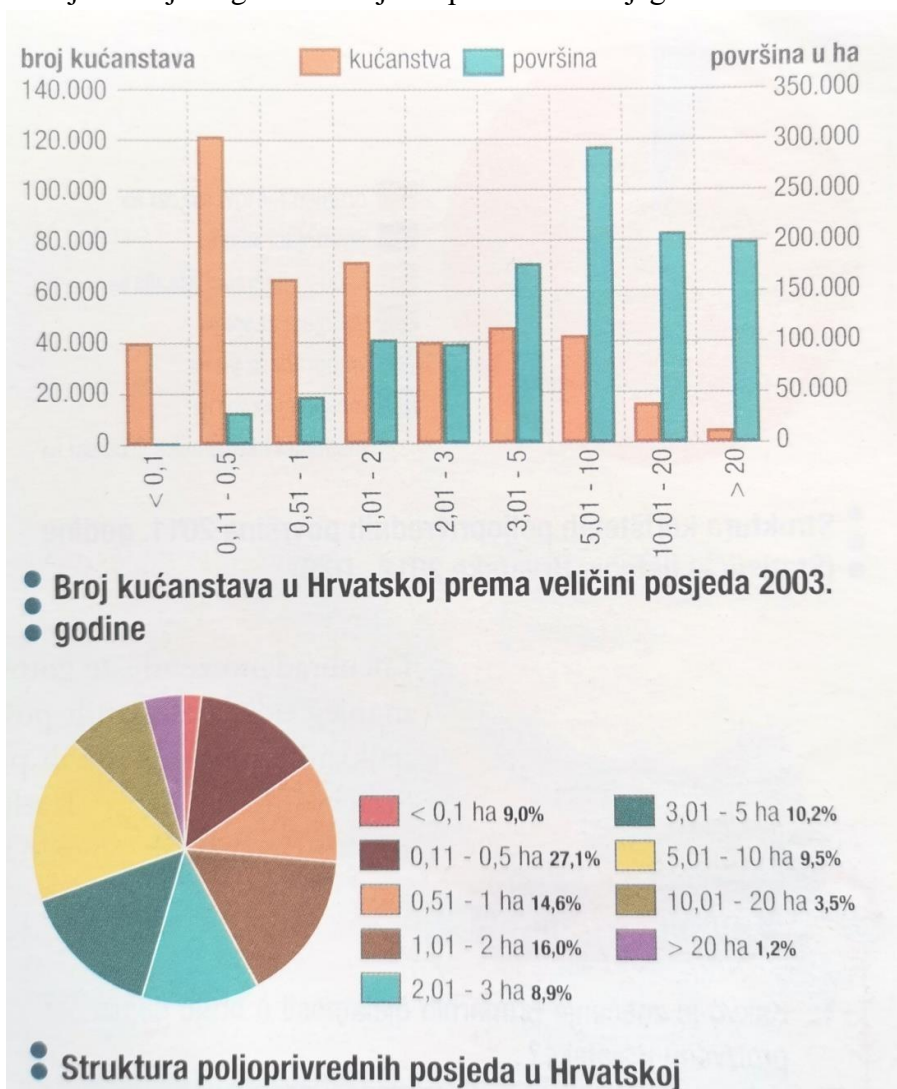


*Kretanje obujma industrijske proizvodnje u Hrvatskoj od 1980. do 2010. g*

Izvor: Feletar, D., Vuk, R. (2014): Geografija 4, udžbenik iz geografije za četvrti razred gimnazije, Meridijani, Zagreb.

- a) **nacionalizacija**
- b) liberalizacija
- c) povećanje nezaposlenosti
- d) prestrukturiranje
- e) smanjenje životnog standarda

45. Koja tvrdnja odgovara stanju na priloženom dijagramu?

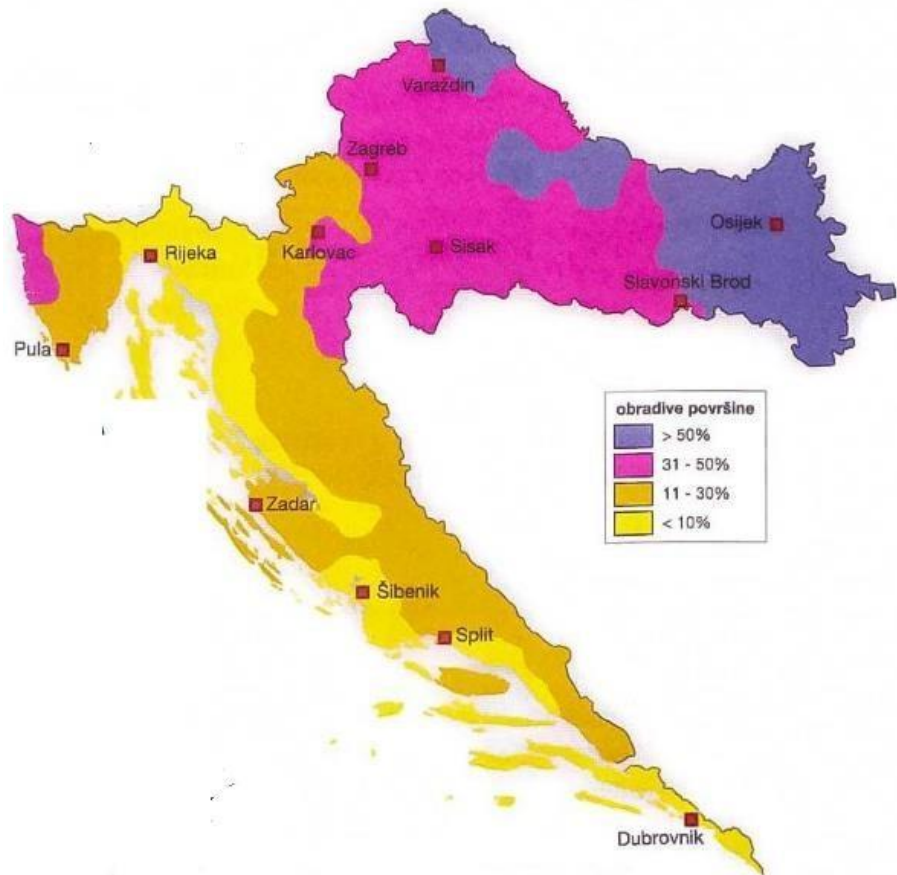


Izvor: Feletar, D., Vuk, R. (2014): Geografija 4, udžbenik iz geografije za četvrti razred gimnazije, Meridijani, Zagreb.

- Najveći broj kućanstava ima posjed površine < 0,1 ha.
- Najveći broj kućanstava ima posjed na razini hrvatskog prosjeka.
- Manje od 100 000 kućanstava ima posjed manji od 1 ha.
- Najveći posjedi (> 20 ha) zauzimaju veću površinu od posjeda koji su manji od prosjeka.
- Veličinski razred koji posjeduje najveću površinu u hektarima je u vlasništvu 50 000 kućanstava.



46. Koje od navedenih područja ima najslabije zemljišne resurse?



Izvor: Feletar, D., Vuk, R. (2014): Geografija 4, udžbenik iz geografije za četvrti razred gimnazije, Meridijani, Zagreb.

- a) Gorski kotar
- b) Požeština
- c) Ravni kotari
- d) Turopolje
- e) Žumberak

SLJEDEĆA DVA ZADATKA RIJEŠI POMOĆU PRILOŽENE GEOGRAFSKE KARTE.



Izvor: Feletar,

D., Vuk, R. (2014): Geografija 4, udžbenik iz geografije za četvrti razred gimnazije, Meridijani, Zagreb.

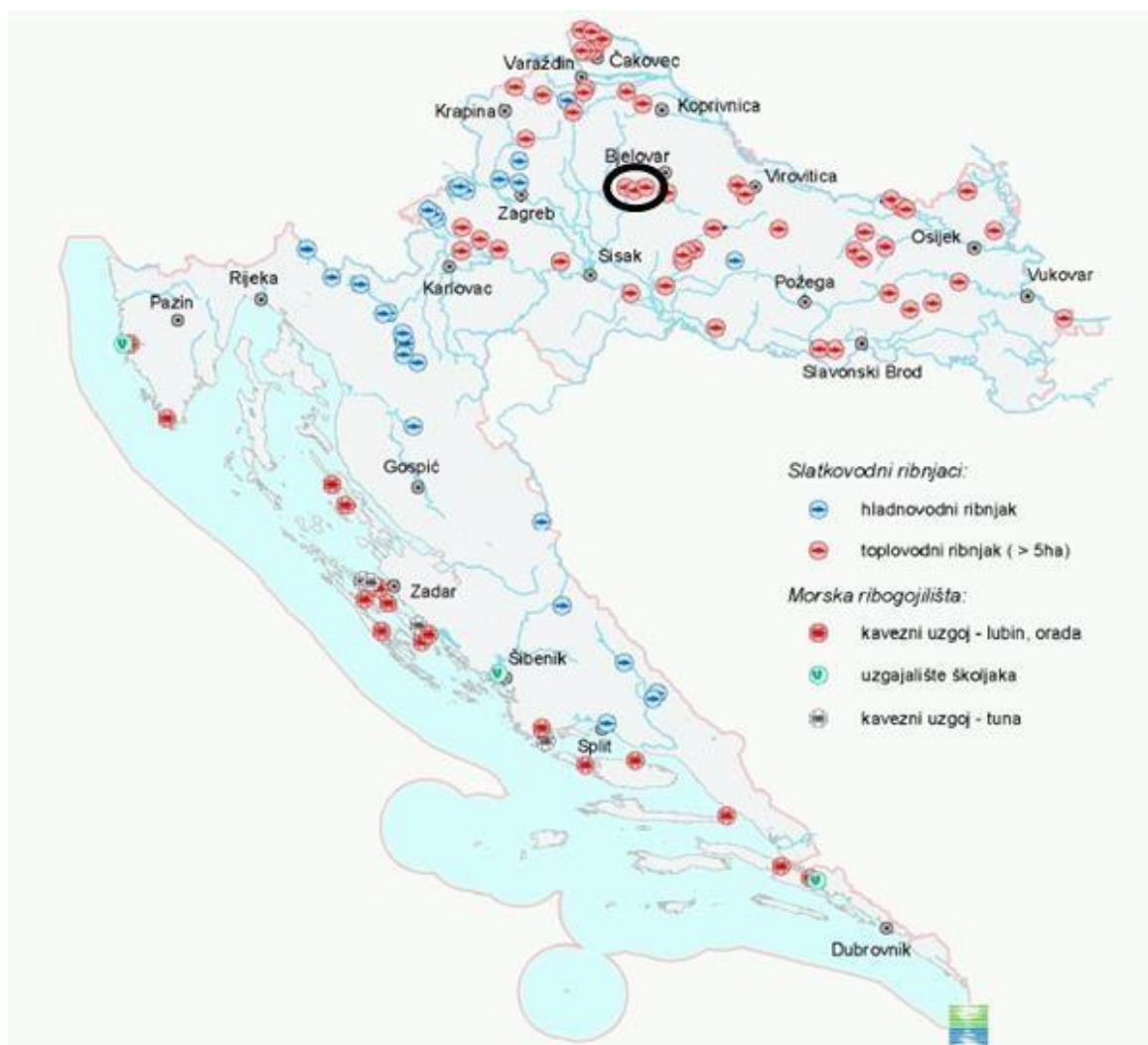
47. Koja od navedenih tvrdnji najbolje opisuje brežuljkastu regiju?

- a) najplodnije tlo i tržišno usmjerena poljoprivreda
- b) usitnjeni posjedi, isprana tla**
- c) glavno žitородno područje Hrvatske
- d) uzgoj maslina i agruma
- e) šumarstvo ima veću važnost od poljoprivrede

48. Koje od navedenih područja **nije** područje uzgoja vinove loze?

- a) Baranja
- b) Borinci**
- c) Erdut
- d) Ilok
- e) Kutjevo

SLJEDEĆA DVA ZADATKA RIJEŠI POMOĆU PRILOŽENE GEOGRAFSKE KARTE.



Izvor: <https://narodne-novine.nn.hr/clanci/sluzbeni/dodatni/348426.gif>

49. U kojemu od navedenih područja 2008. godine ne postoji marikultura?

- a) Brački kanal
- b) Limski kanal
- c) Malostonski zaljev
- d) Plominski zaljev
- e) Šibenski kanal

50. Koje je ime ribnjaka zaokruženog crnom bojom na karti?

- a) Grudnjak
- b) Končanica
- c) Narta
- d) Sišćani
- e) Breznica